



Series WX1YZ/4



SET-3

رول نمبر Roll No.							

کیو۔ پی کوڈ
 Q. P. Code **46/4/3**

امیدوار اپنی جواب کی کاپی کے سرورق پر کیو۔ پی۔ کوڈ ضرور لکھیں
 Candidates must write the Q. P. Code
 on the title page of the answer-book.

ریاضی (معیاری) - تھیوری

MATHEMATICS (STANDARD) - Theory

(Urdu Version)

#

حاصل وقت : 3 گھنٹے

کل نمبر : 80

Time allowed : 3 hours

Maximum Marks : 80

نوٹ:

- برائے مہربانی جانچ لیں کہ اس پرچہ سوالات میں 15 چھپے ہوئے صفحات ہیں۔
- پرچہ سوالات کے دائیں جانب دیے ہوئے کیو۔ پی۔ کوڈ کو امیدوار جواب کی کاپی کے سرورق پر ضرور لکھیں۔
- برائے مہربانی جانچ لیں کہ اس پرچہ سوالات میں 38 سوال ہیں۔
- برائے مہربانی سوال کا سلسلہ نمبر، اپنی جواب کی کاپی میں، سوال کا جواب لکھنا شروع کرنے سے پہلے لکھیں۔
- اس پرچہ سوالات کو پڑھنے کے لیے 15 منٹ کا وقت دیا گیا ہے۔ پرچہ سوالات 10.15 بجے (صبح) تقسیم کیا جائے گا۔ 10.15 سے 10.30 بجے تک طالب علم صرف پرچہ سوالات پڑھیں گے اور اس دوران اپنی جواب کی کاپی میں کوئی جواب نہیں لکھیں گے۔

NOTE:

- Please check that this question paper contains 15 printed pages.
- Q. P. Code given on the right hand side of the question paper should be written on the title page of the answer-book by the candidate.
- Please check that this question paper contains 38 questions.
- Please write down the Serial Number of the question in the answer-book before attempting it.
- 15 minute time has been allotted to read this question paper. The question paper will be distributed at 10. 15 a.m. From 10.15 a.m. to 10.30 a.m., the students will read the question paper only and will not write any answer on the answer-book during this period.



عمومی ہدایات :

مندرجہ ذیل ہدایات غور سے پڑھیں اور ان پر عمل کریں :

- (i) اس پرچہ سوالات میں 38 سوال ہیں۔ تمام سوالات لازمی ہیں۔
- (ii) اس پرچہ سوالات کو 5 حصوں میں تقسیم کیا گیا ہے۔ حصہ A، B، C، D اور E
- (iii) حصہ A میں سوال نمبر 1 تا سوال نمبر 18 کثیر متبادل والے سوالات ہیں اور سوال نمبر 19 و سوال نمبر 20 ادنیٰ سبب مبنی سوالات ہیں۔ ہر سوال کا ایک نمبر ہے۔
- (iv) حصہ B میں سوال نمبر 21 تا سوال نمبر 25 بہت مختصر جواب قسم کے دو۔ دو نمبروں کے سوال ہیں۔
- (v) حصہ C میں سوال نمبر 26 تا سوال نمبر 31 مختصر جواب قسم کے تین۔ تین نمبروں کے سوال ہیں۔
- (vi) حصہ D میں سوال نمبر 32 تا سوال نمبر 35 طویل جواب قسم کے پانچ۔ پانچ نمبروں کے سوال ہیں۔
- (vii) حصہ E میں سوال نمبر 36 تا سوال نمبر 38 کیس/موضوع اکائی مبنی چار۔ چار نمبروں کے سوال ہیں دو۔ دو نمبروں کے سوال میں اندرونی اختیار مہیا کیا گیا ہے۔
- (viii) پرچہ سوالات میں کوئی مجموعی اختیار نہیں مہیا کیا گیا ہے۔ حالانکہ حصہ B کے 2 سوالوں میں حصہ C کے 2 سوالوں میں حصہ D کے 2 سوالوں میں اور حصہ E کے 3 سوالوں میں اندرونی اختیار مہیا کیا گیا ہے۔
- (ix) جہاں درکار ہو، صاف ستھری ڈائنگرام کھینچئے۔ اگر درج نہیں ہو تو جہاں ضرورت ہو، $\pi = \frac{22}{7}$ لیجئے۔
- (x) کیلکولیٹر کے استعمال کی اجازت نہیں ہے۔





حصہ - A

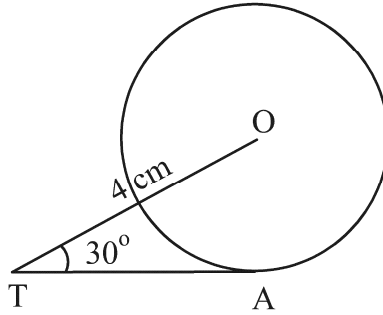
حصہ - A میں کثیر متبادل والے سوالات ہیں۔ ہر ایک سوال ایک نمبر کا ہے۔

1. خطی مساواتوں : $2x = 5y + 6$ اور $15y = 6x - 18$ کا جوڑا ایسے خطوط کی نمائندگی کرتا ہے جو ہیں۔ 1

- (a) ایک دوسرے کے قاطع
(b) متوازی
(c) متطبیق
(d) قاطع یا متوازی

2. دی ہوئی شکل میں 'TA' O مرکز والے دائرے پر مماس ہے اس طرح کہ $OT = 4 \text{ cm}$

- 1 $\angle OTA = 30^\circ$ تو TA کی لمبائی ہے :



- (a) $2\sqrt{3} \text{ cm}$
(b) 2 cm
(c) $2\sqrt{2} \text{ cm}$
(d) $\sqrt{3} \text{ cm}$

3. کم ترین مخلوط عدد (Least Composite Number) اور کم ترین مفرد عدد کے عاِد اعظم (HCF) کی

- 1 ان کے ذواضعاف اقل (LCM) سے نسبت ہے۔

- (a) 1:2
(b) 2:1
(c) 1:1
(d) 1:3





1

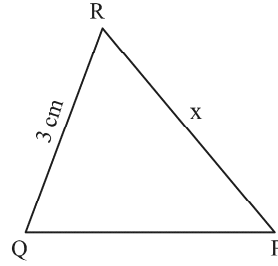
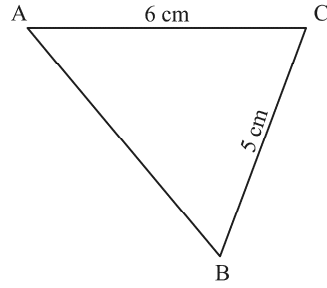
4. اگر کوئی 6 m اونچا کھمبازمین پر $2\sqrt{3}$ m لمبایہ بناتا ہے تو سورج کا ارتقاع ہے۔

(b) 45°

(a) 60°

(d) 90°

(c) 30°



5.

دی ہوئی شکل میں ' $\Delta ABC \sim \Delta QPR$ ' اگر $AC = 6$ cm ' $BC = 5$ cm ' $QR = 3$ cm

1

اور $PR = x$ ہے تو x کی قدر ہے۔

(a) 3.6 cm

(b) 2.5 cm

(c) 10 cm

(d) 3.2 cm

1

6. نقطہ $(-6, 8)$ کا اصل نقطے سے فاصلہ ہے :

(a) 6

(b) -6

(c) 8

(d) 10





7. A.P. : $\sqrt{7}, \sqrt{28}, \sqrt{63}$ کا اگلا رکن ہے 1

(a) $\sqrt{70}$ (b) $\sqrt{80}$

(c) $\sqrt{97}$ (d) $\sqrt{112}$

8. $(\sec^2 \theta - 1)(\operatorname{cosec}^2 \theta - 1)$ مساوی ہے 1

(a) -1 (b) 1

(c) 0 (d) 2

9. دو پانسوں کو ایک ساتھ پھینکا گیا۔ ان کی اوپری سطح پر آئے اعداد کے فرق کا 3 ہونے کا احتمال ہے : 1

(a) $\frac{1}{9}$

(b) $\frac{2}{9}$

(c) $\frac{1}{6}$

(d) $\frac{1}{12}$

10. 52 پتوں کی اچھی طرح سے بھینٹی گئی گڈی میں سے ایک پتہ، بنا کسی ترتیب کے نکالا گیا۔ یہ پتہ اگانہ ہو 1

اس کا احتمال ہے۔

(a) $\frac{1}{13}$ (b) $\frac{9}{13}$

(c) $\frac{4}{13}$ (d) $\frac{12}{13}$





11. مساوات : $x^2 + 3x - 10 = 0$ کے جذر ہیں : 1

(a) 2, -5 (b) -2, 5

(c) 2, 5 (d) -2, -5

12. اگر α اور β دو درجی کثیررکنی $x^2 - 1$ کے صفر ہیں تو $(\alpha + \beta)$ کی قدر ہے۔ 1

(a) 2 (b) 1

(c) -1 (d) 0

13. اگر α اور β کثیررکنی $p(x) = 4x^2 - 3x - 7$ کے صفر ہیں تو $(\frac{1}{\alpha} + \frac{1}{\beta})$ کی قدر ہے۔ 1

(a) $\frac{7}{3}$ (b) $-\frac{7}{3}$ (c) $\frac{3}{7}$ (d) $-\frac{3}{7}$

14. قطر 'd' کے نصف دائرہ کا رقبہ کتنا ہوگا؟ 1

(a) $\frac{1}{16}\pi d^2$ (b) $\frac{1}{4}\pi d^2$ (c) $\frac{1}{8}\pi d^2$ (d) $\frac{1}{2}\pi d^2$

15. مندرجہ ذیل تقسیم کے لیے

حاصل کردہ نمبر	60 سے کم	50 سے کم	40 سے کم	30 سے کم	20 سے کم	10 سے کم
طالب علموں کی تعداد	80	75	57	27	12	3

بہتانیہ کلاس ہے۔ 1

(a) 10-20 (b) 20-30

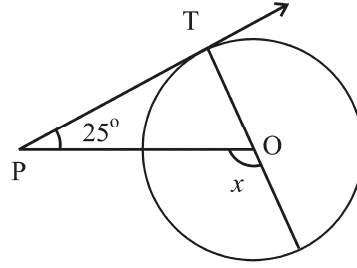
(c) 30-40 (d) 50-60





16. دی ہوئی شکل میں PT مرکز O والے دائرے کے نقطہ T پر کھینچا گیا مماس ہے۔ اگر $\angle TPO = 25^\circ$

1



تو x کی قدر ہے۔

(b) 65°

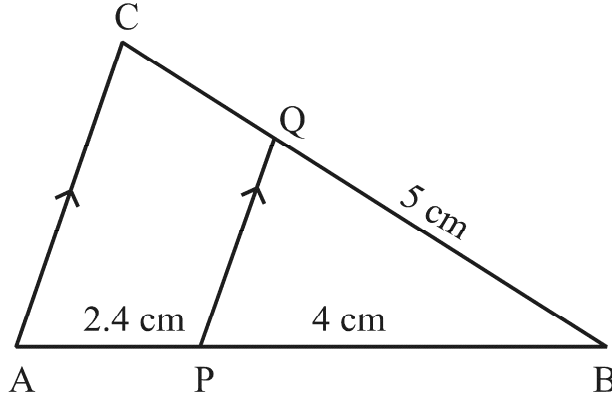
(a) 25°

(d) 115°

(c) 90°

17. دی ہوئی شکل میں 'PQ || AC' اگر $AP = 2.4$ cm, $BP = 4$ cm اور $BQ = 5$ cm

1



تو BC کی لمبائی ہے

(b) 3 cm

(a) 8 cm

(d) $\frac{25}{3}$ cm

(c) 0.3 cm

1

18. نقاط $(-4, 0)$ ، $(4, 0)$ اور $(0, 3)$ راسیں ہیں۔

(a) قائم زاویہ مثلث کی

(b) متساوی الساقین مثلث کی

(c) مساوی الاضلاع مثلث کی

(d) مختلف الاضلاع مثلث کی





ہدایات : سوال نمبر 19 اور سوال نمبر 20 میں ادعئی (A) کے بیان کے بعد سبب (R) کا بیان دیا گیا ہے۔
مندرجہ ذیل میں سے درست اختیار منتخب کیجئے۔

19. ادعئی (A) : احتمال کہ ایک لونڈ کے سال (Leap Year) میں 53 اتوار ہوں ، $\frac{2}{7}$ ہے۔
سبب (R) : ایک غیر لونڈ کے سال میں 53 اتوار ہونے کا احتمال $\frac{5}{7}$ ہے
- (a) ادعئی (A) اور سبب (R) دونوں صادق ہیں اور سبب (R) ادعئی (A) کی درست وضاحت ہے۔
- (b) ادعئی (A) اور سبب (R) دونوں صادق ہیں لیکن سبب (R) ادعئی (A) کی درست وضاحت نہیں ہے۔
- (c) ادعئی (A) صادق ہے لیکن سبب (R) صادق نہیں ہے۔
- (d) ادعئی (A) صادق نہیں ہے لیکن سبب (R) صادق ہے۔
20. ادعئی (A) : 'a' ، 'b' ، c ایک A.P. کے رکن ہوں گے اگر اور صرف اگر $2b = a + c$
سبب (R) : پہلے 'n' طاق فطری اعداد کا حاصل جمع n^2 ہے۔
- (a) ادعئی (A) اور سبب (R) دونوں صادق ہیں اور سبب (R) ادعئی (A) کی درست وضاحت ہے۔
- (b) ادعئی (A) اور سبب (R) دونوں صادق ہیں لیکن سبب (R) ادعئی (A) کی درست وضاحت نہیں ہے۔
- (c) ادعئی (A) صادق ہے لیکن سبب (R) صادق نہیں ہے۔
- (d) ادعئی (A) صادق نہیں ہے لیکن سبب (R) صادق ہے۔





حصہ-B

حصہ-B میں بہت مختصر جواب والے دو-دو نمبروں کے سوالات ہیں۔

21. (A) دو درجی مساوات : $2x^2 - 9x + 4 = 0$ کے جذروں کا حاصل جمع اور حاصل ضرب معلوم کیجئے۔ 2

یا

(B) دو درجی مساوات : $4x^2 - 5 = 0$ کا ممیز (Discriminant) معلوم کیجئے اور پھر اس مساوات

2 کے جذروں کی طبع لکھئے۔

22. (A) قدر معلوم کیجئے : $2\sec^2 \theta + 3\operatorname{cosec}^2 \theta - 2\sin \theta \cos \theta$ اگر $\theta = 45^\circ$ 2

یا

(B) اگر $\sin \theta - \cos \theta = 0$ تو $\sin^4 \theta + \cos^4 \theta$ کی قدر معلوم کیجئے۔ 2

23. اگر کسی غیر جانبدار سکے کو 2 مرتبہ اچھالا جائے تو زیادہ سے زیادہ ایک بار ہیڈ آنے کا احتمال معلوم کیجئے۔ 2

24. دو اعداد 2 : 3 کی نسبت میں ہیں اور ان کا L.C.M. 180 ہے۔ ان اعداد کا H.C.F. کیا ہوگا؟ 2

25. اگر کثیر رکنی $p(x) = 6x^2 + 37x - (k - 2)$ کا ایک صفر دوسرے صفر کا مقلوب ہے، تو k کی

2 قدر معلوم کیجئے۔





حصہ - C

حصہ - C، تین تین نمبروں کے مختصر جواب والے سوالات پر مشتمل ہے۔

26. 'p' کی وہ قدر معلوم کیجئے، جس کے لیے دو درجی مساوات : $px^2 - 14x + 8 = 0$ کا ایک جذر دوسرے

3 جذر کا 6 گنا ہو

27. کسی باہری نقطے سے ایک دائرہ پر دو مماس کھینچے گئے ثابت کیجئے کہ باہری نقطے کو دائرے کے مرکز سے ملانے والا

3 خط دونوں مماسوں کے درمیانی زاویہ کی تنصیف کرتا ہے۔

28. دو ہم مرکز دائرے ہیں، جن کے نصف قطر 5 cm اور 3 cm ہیں۔ مقابلتا بڑے دائرے کے اس وتر کی

3 لمبائی معلوم کیجئے جو مقابلتا چھوٹے دائرے کو لمس کرتا ہے۔

29. (A) اس A.P. میں کل کتنے ارکان ہیں جس کے پہلے اور پانچویں رکن بالترتیب 14- اور 2 ہیں

3 اور آخری رکن 62 ہے۔

یا

3 (B) A.P. : 65, 61, 57, 53, کا کون سا رکن سب سے پہلا منفی رکن ہوگا؟

3 (A) ثابت کیجئے : $\frac{\sin A - 2\sin^3 A}{2\cos^3 A - \cos A} = \tan A$ 30.

یا

3 (B) ثابت کیجئے : $\sec A (1 - \sin A) (\sec A + \tan A) = 1$





3

31. ثابت کیجئے کہ $\sqrt{5}$ ایک غیر ناطق عدد ہے۔

حصہ - D

حصہ - D پانچ۔ پانچ نمبروں کے طویل جواب والے سوالات پر مشتمل ہے۔

32. (A) کسی ΔPQR میں 'N خط PR پر ایک نقطہ ہے اس طرح کہ $QN \perp PR$ '۔

5

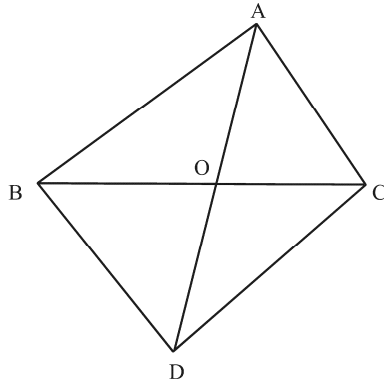
اگر $PN \times NR = QN^2$ ہے، تو ثابت کیجئے $\angle PQR = 90^\circ$

یا

(B) دی ہوئی شکل میں ΔABC اور ΔDBC ایک ہی قاعدہ BC پر ہیں۔ اگر AD ' BC کو نقطہ

5

O پر قطع کرتی ہے تو ثابت کیجئے : $\frac{\text{ar}(\Delta ABC)}{\text{ar}(\Delta DBC)} = \frac{AO}{DO}$




33. لکڑی کے ایک ٹھوس استوانے کے دونوں سروں سے نصف کرہ

نکال کر ایک شے بنائی گئی جیسا کہ شکل میں دکھایا گیا ہے اگر استوانے کی اونچائی

10 cm ہے اور اس کے قاعدے کا نصف قطر 3.5 cm ہے

تو بنائی گئی شے کا کل سطحی رقبہ معلوم کیجئے۔

5



[P.T.O.]

11



46/4/3



34. کسی رہائشی سوسائٹی کے 200 خاندانوں کا دودھ کا ماہانہ خرچہ ذیل میں دیا گیا ہے۔

ماہانہ خرچہ	1000-	1500-	2000-	2500-	3000-	3500-	4000-	4500-
(Rs. میں)	1500	2000	2500	3000	3500	4000	4500	5000
خاندانوں کی تعداد	24	40	33	x	30	22	16	7

5 x کی قدر معلوم کیجئے اور دودھ کے خرچے کا وسطانیہ اور درمیانیہ بھی معلوم کیجئے۔

35. (A) ایک مستقیم شاہ راہ کسی مینار کے پائیدان تک پہنچتی ہے۔ ایک شخص جو 75 m اونچے مینار کی چوٹی پر

کھڑا ہے دیکھتا ہے کہ دو کاریں جن کے زاویہ نشیب 30° اور 60° ہیں، مینار کے پائیدان کی جانب

جارہی ہیں۔ اگر ایک کار مینار کے اُسی طرف دوسری کار کے بالکل پیچھے ہے، تو دونوں کاروں کا درمیانی

5 فاصلہ معلوم کیجئے۔ ($\sqrt{3} = 1.73$ استعمال کیجئے)

یا

(B) 7 m اونچی عمارت کی چوٹی سے کسی کیبل ٹاور کی چوٹی کا زاویہ ارتقاع 60° ہے اور اس کے پائے کا

5 زاویہ نشیب 30° ہے۔ ٹاور کی اونچائی معلوم کیجئے۔

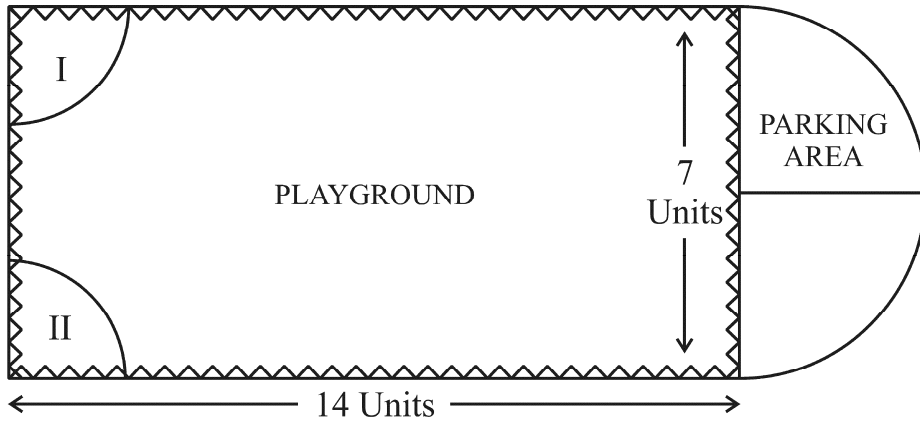




حصہ - E

حصہ - E میں مطالعہ کیس مبنی تین سوالات ہیں۔ ہر سوال کے چار نمبر ہیں۔

36. دہرادون کی ایک مقامی عوامی ترقی اتھارٹی کی گورننگ کونسل نے ایک پہاڑ کی چوٹی پر دلیرانہ کھیل کا میدان بنانے کا فیصلہ کیا۔ جس میں گاڑیوں کو کھڑا کرنے کی وافر جگہ بھی ہو۔



سروے کے بعد یہ فیصلہ کیا گیا کہ مستطیل نما کھیل کا میدان بنایا جائے اور میدان کے ایک سرے پر نصف دائری رقبہ گاڑیوں کے کھڑے کرنے کی جگہ کے لیے رکھا جائے۔ مستطیل نما کھیل کے میدان کی لمبائی اور چوڑائی بالترتیب 14 اکائی اور 7 اکائی ہیں۔ اس میدان کے ایک طرف 2 اکائی نصف قطر کے دو ربعات مخصوص نشستوں کے لیے ہیں۔

مندرجہ بالا اطلاعات کی بنیاد پر مندرجہ ذیل سوالوں کے جواب دیجئے۔

- 1 (i) گاڑیوں کے کھڑے کرنے کی جگہ کا کل احاطہ کتنا ہے؟
- 2 (ii) (a) گاڑیوں کے کھڑے کرنے کی جگہ اور دونوں ربعات کا کل رقبہ کتنا ہے۔





یا

- (b) کھیل کے میدان کے رقبہ کی گاڑیوں کے کھڑے کرنے کی جگہ کے رقبہ سے کیا نسبت ہے۔ 2
- (iii) Rs. 2 فی اکائی کی شرح سے کھیل کے میدان اور گاڑیاں کھڑی کرنے کی جگہ کے چاروں طرف تار لگانے کا خرچہ معلوم کیجئے۔ 1

37. دو اسکولوں 'P' اور 'Q' نے اپنے طالب علموں کو ہاکی Rs. x ہر طالب علم اور کرکٹ



Rs. y ہر طالب علم کے 2 کھیلوں کے لیے انعام دینے کا فیصلہ کیا۔ اسکول 'P' نے

دونوں کھیلوں کے لیے بالترتیب 5 اور 4 طالب علموں کو انعام دینے کا فیصلہ

کیا جبکہ انعامات کی کل رقم Rs. 9,500 رکھی۔ جبکہ اسکول 'Q' نے ان دونوں

کھیلوں کے لیے کل رقم Rs. 7,370 رکھی اور بالترتیب 4 اور 3 طالب علموں

کو انعام دیے۔

مندرجہ بالا اطلاعات کی بنیاد پر مندرجہ ذیل سوالات کے جواب دیجئے۔

- (i) مندرجہ بالا اطلاعات کو الجبرائی شکل میں x اور y کا استعمال کر کے ظاہر کیجئے۔ 1
- (a) ہاکی کے لیے انعام کی رقم کتنی ہے؟ 2

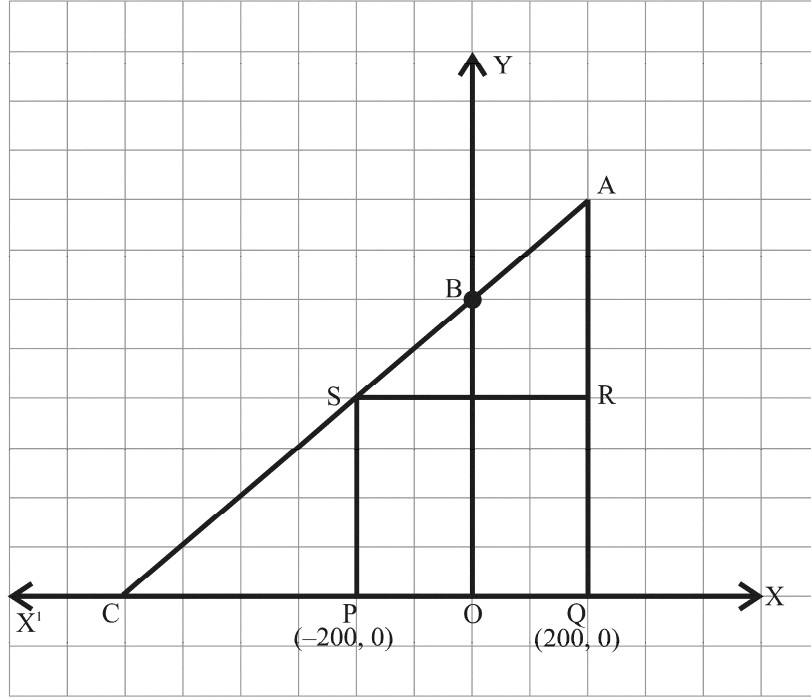
یا

- (b) کس کھیل کے لیے انعام کی رقم زیادہ ہے اور کتنی زیادہ ہے؟ 2
- (iii) انعام کی کل رقم کتنی ہوگی اگر ہر کھیل سے 2 طالب علموں کو انعام دیا جائے؟ 1





38. جگدیش کا ایک کھیت ہے جو قائم زاویہ مثلث AQC کی شکل کا ہے۔ وہ کھیت کے اندر مربع PQRS کی شکل کی جگہ گیہوں کی پیداوار کے لیے چھوڑنا چاہتا ہے۔ اور باقی جگہ میں سبزیاں اگانا چاہتا ہے۔ (جیسا کہ شکل میں دکھایا گیا ہے) کھیت میں ایک کھمبا O سے نشان زد ہے۔



دی گئی اطلاعات کی بنیاد پر مندرجہ ذیل سوالوں کے جواب لکھیے۔

- (i) O کو مبداء لیتے ہوئے نقاط P اور Q کے کوآرڈینیٹس بالترتیب $(-200, 0)$ اور $(200, 0)$ ہیں۔ مربع PQRS ہے تو R اور S کے کوآرڈینیٹس کیا ہوں گے۔
- (ii) (a) مربع PQRS کا رقبہ کیا ہوگا؟
- یا
- (b) مربع PQRS میں وتر PR کی لمبائی کیا ہوگی؟
- (iii) اگر نقطہ S قطعہ خط CA کو $K : 1$ کی نسبت میں تقسیم کرتا ہے تو K کی قدر کیا ہوگی جبکہ نقطہ A کے کوآرڈینیٹس $(200, 800)$ ہیں



